

Matin : .....

Soir : .....

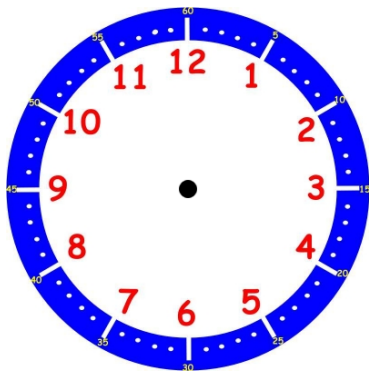
Matin : .....

Après-midi : .....

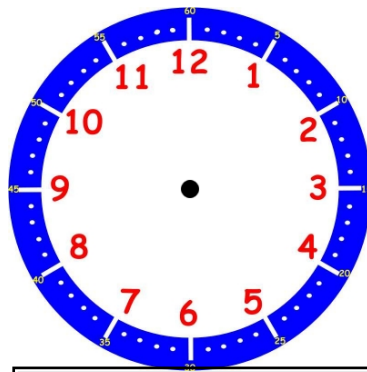
Matin : .....

Soir : .....

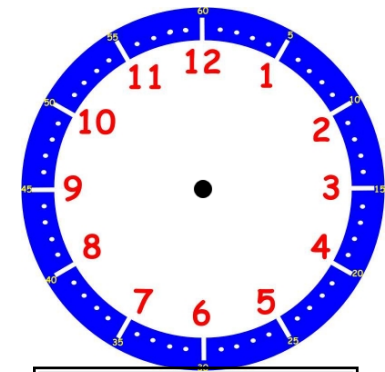
3) Dessine les aiguilles (heures en rouge et minutes en bleu) pour indiquer l'heure sur chaque horloge :



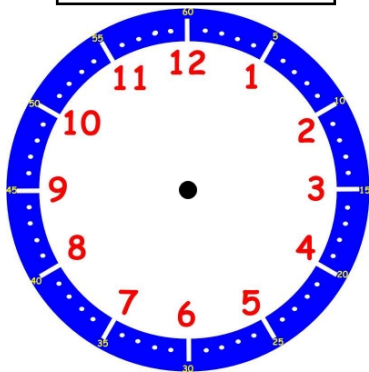
18 h



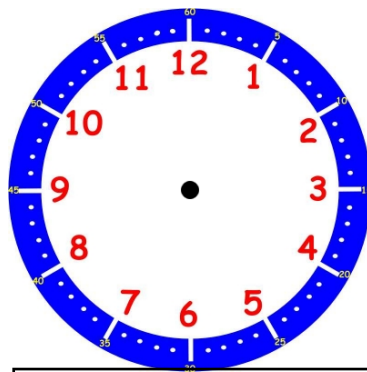
4 h et demie



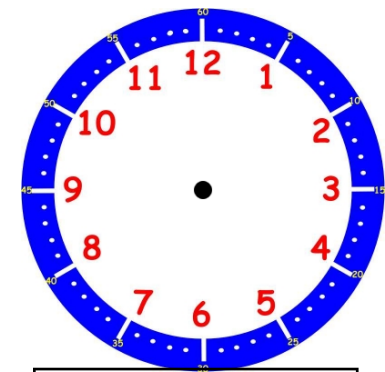
midi et demie



2 h



22 h 30 min



19 h

4) Imagine l'heure qu'il peut être à ces 3 moments de la journée :



Il est : .....



Il est : .....



Il est : .....